



تیسرا مہینا، دوسرا ہفتہ، پانچواں دن **سلیبس**: باب نمبر 7 (پہلا نصف): مشق سوال نمبر 1, 2

سوال نمبر 1: نیچے دی گئی ان سبزیوں پر ✓ کا نشان لگائیں جو پودے کی جڑیں ہیں۔ (6)

ٹماٹر گاجر مولی

ادرک شلجم پودینہ

سوال نمبر 2: نیچے دیے گئے پودے کے حصے کا نام اور کام بتائیں۔ (4)

| | | |
|-----|---|-----|
| کام |  | نام |
| کام |  | نام |



تیسرا مہینا، دوسرا ہفتہ، پانچواں دن **سلیبس**: باب نمبر 7 (پہلا نصف): مشق سوال نمبر 1, 2

سوال نمبر 1: نیچے دی گئی ان سبزیوں پر ✓ کا نشان لگائیں جو پودے کی جڑیں ہیں۔ (6)

ٹماٹر گاجر مولی

ادرک شلجم پودینہ

سوال نمبر 2: نیچے دیے گئے پودے کے حصے کا نام اور کام بتائیں۔ (4)

| | | |
|-----|---|-----|
| کام |  | نام |
| کام |  | نام |